



evropský  
sociální  
fond v ČR



EVROPSKÁ UNIE



MINISTERSTVO ŠKOLSTVÍ,  
MLÁDEŽE A TĚLOVÝCHOVY



OP Vzdělávání  
pro konkurenceschopnost



ZŠ  
ŽELATOVSKÁ

INVESTICE DO ROZVOJE VZDĚLÁVÁNÍ

# PŘÍRODOPIS

Test - ryby

*Ročník 7.*

2.2.- 4.2.2013

Autor:

Mgr .Margita Havlíková

*Zpracováno v rámci projektu „Krok za krokem na ZŠ Želatovská ve 21. století“  
registrační číslo projektu: CZ.1.07/1.4.00/21.3443*

*Projekt je spolufinancován Evropským sociálním fondem a státním rozpočtem České republiky.*

## **Informace o projektu**

**Název projektu:** Krok za krokem na ZŠ Želatovská ve 21. století

**Registrační číslo:** CZ.1.07/1.4.00/21.3443

**Příjemce:** Základní škola, Přerov, Želatovská 8

### **Anotace:**

Vzdělávací materiál bude využíván v hodinách přírodopisu jako součást studijního materiálu pro žáka.. V závěru má možnost ověřit si své vědomosti na kontrolních otázkách.

# TEST RYBY

1. Tělo kapra je na povrchu kryté ..... a kostěnými útvary .....

2. Kapr má:

- a) párové hřbetní ploutve, řitní, břišní a prsní ploutve nepárové
- b) nepárové hřbetní, řitní a ocasní ploutve, prsní a břišní ploutve párové
- c) všechny ploutve nepárové

3. Přiřaďte k částem trávicí soustavy číslice v takovém pořadí, v jakém jí prochází potrava. Číslo 1 budou mít ústa.

hltan..., řitní otvor..., ústa..., žaludek..., jícn..., střevo...

4. Orgán, který udržuje tělo ryb v rovnováze a nadlehčuje ho se nazývá.....

5. Přiřaďte k číslům písmena tak, aby vznikla pravdivá tvrzení:

- |                      |                               |        |
|----------------------|-------------------------------|--------|
| 1. skřele            | a) dýchání                    | 1..... |
| 2. ploutevní paprsky | b) udržování těla v rovnováze | 2..... |
| 3. žábry             | c) vyztužení ploutví          | 3..... |
| 4. plynový měchýř    | d) kryjí žábry                | 4..... |

6. Jmenujte dravou rybu:

- a) horský bystřin: .....
- b) středních toků řek a přehrad: .....

7. Napište rodová jména mořských ryb, které se k nám dovážejí jako potraviny:

.....  
.....

8. Vajíčka ryb se nazývají ..... Samčím pohlavním buňkám (spermií) ryb říkáme .....

9. Mihule říční patří mezi:

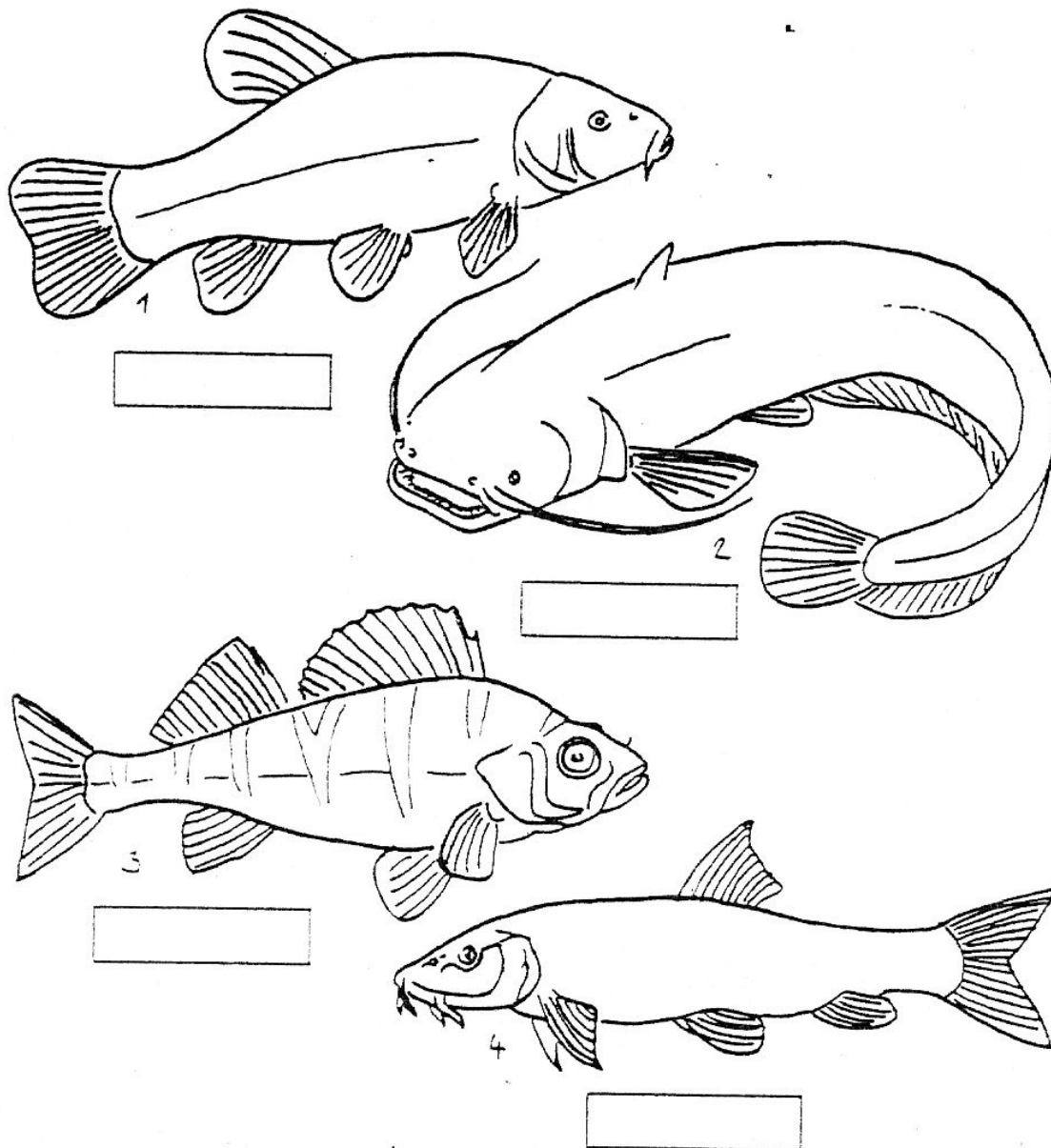
a) ryby

b) kruhoústé

c) mořské ryby

10. Žraloci jsou paryby a mají chrupavčitou kostru: ano - ne

11. Přiřaď názvy ryb k obrázkům:




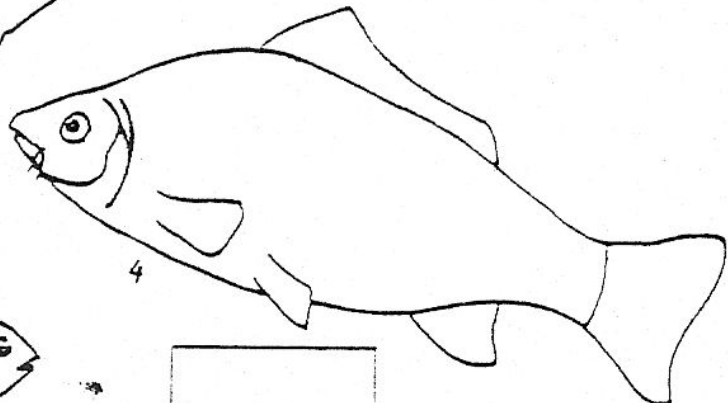
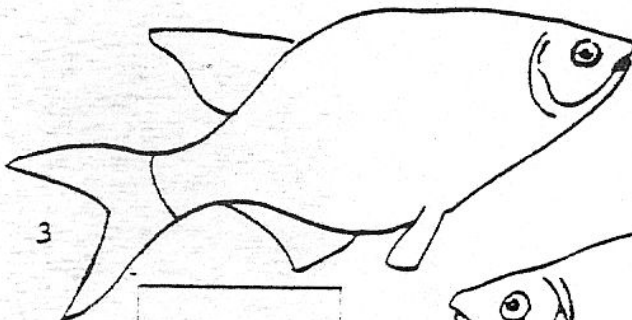


Parma

Lín

Okoun

Sumec

12. Přiřaď názvy k obrázkům:



Cejn

Karas

Hrouzek

Pstruh

Kapr